



Türkiye Geneli  
YÜKSEKÖĞRETİM KURUMLARI SINAVI  
ALAN YETERLİLİK TESTİ

SINAV KODU

Y 2 2 2 4

AYT

DENEME SINAVI

A



2

T.C. KİMLİK NUMARASI

ADI

SOYADI

ÖĞRENCİ NUMARASI

**ADAYIN DİKKATİNE!**

**SINAV BAŞLAMADAN ÖNCE AŞAĞIDAKİ UYARILARI MUTLAKA OKUYUNUZ.**

1. Bu sınavın süresi 180 dakikadır. Sınav 4 testten oluşmaktadır (Türk Dili ve Edebiyatı - Sosyal Bilimler 1, Sosyal Bilimler 2, Matematik, Fen Bilimleri) ve yanıtlayacağınız her test 40'ar sorudur.
2. TYT ve AYT puanlarının birleştirilebilmesi için optik cevap kâğıtlarında **aynı T.C. Kimlik Numarasının** ve **aynı öğrenci numarasının** kodlanması gerekmektedir. Farklı kodlama yapıldığında cevap kâğıtlarınız eşleştiremeyecek ve puanlarınız hesaplanamayacaktır.

★ ÖZDEBİR'in hazırladığı bu sınavların her hakkı saklıdır. Hangi amaçla olursa olsun, tamamının veya bir kısmının ÖZDEBİR'in yazılı izni olmadan kopya edilmesi, fotoğraflarının çekilmesi, bilgisayar ortamına alınması, herhangi bir yolla çoğaltılması, yayımlanması veya başka bir amaçla kullanılması yasaktır. Bu yasağa uymayanlar doğabilecek hukuki ve cezai sorumluluğu, testlerin hazırlanmasındaki mali külfeti peşinen kabullenmiş sayılır.

## TÜRKİYE GENELİ YKS DENEME İŞ TAKVİMİ

- Yanıt anahtarları ve video çözümler, sınav sonrası ilk Pazartesi günü Saat 17.00'te yayınlanır.
- Sınav bitiminde toplanan soru kitapçıkları, sınav sonrası ilk Salı gününden önce dağıtılmaz.
- Sınavın kesin sonuçları ve sıralama listeleri, sınavdan 10 gün sonra yayınlanır.

### “ Değerli Öğrencimiz,

Bu denememizin sonucunda bilgi eksiklerinizi, Türkiye genelindeki yaklaşık sıranızı ve puanınızı görebileceksiniz.

Soruların ve yanıtlarının paylaşılmaması, sınav kurallarına uyulması sizin ve tüm öğrencilerimizin en doğru sonuçlara ulaşmasını sağlayacaktır.

Gösterdiğiniz duyarlılığa teşekkür eder, başarılar dileriz.

”

Deneme sınav tarihlerimizi [www.ozdebir.org.tr](http://www.ozdebir.org.tr) adresinden takip edebilirsiniz.

İnternette Alışveriş

[www.ozdebiryayinlari.com](http://www.ozdebiryayinlari.com)



Bizi takip edin



# AYT

## SORU BANKALARI

Gelişim  
İzleme  
Serisi (GİS)



- ÖSYM Formatında
  - Kazanım Odaklı
  - Yeni Nesil Sorular
  - Gelişime Destek
- Video çözümlü  
➤ Akıllı tahta uyumlu

Özdebir Türkiye Geneli Deneme Sınav Komisyonları, MEB programlarına uygun olarak hazırlanmıştır.

## TÜRK DİLİ VE EDEBİYATI - SOSYAL BİLİMLER-1 TESTİ

1. Bu testte sırasıyla, Türk Dili ve Edebiyatı (1-24), Sosyal Bilimler-1; Tarih (25-34), Coğrafya-1 (35-40) alanlarına ait toplam 40 soru vardır.
2. Cevaplarınızı, cevap kâğıdının Türk Dili ve Edebiyatı - Sosyal Bilimler-1 Testi için ayrılan kısmına işaretleyiniz.

1. Şiir, ilhamın mayalanmasıdır. Şiirin büyük bir kısmı alın teridir, bir kısmı da yetenektir elbette. Şair duyarlılığı kazanmak için oldukça fazla ter dökmek gerek. Şair de diğer sanatçılar da hayatlarını sanatlarına adadıkları, sürekli sanatın alanı içinde buldukları sürece gelişirler. Şiiri bayramdan bayrama ziyaret edilen bir yâren olarak gören bir kişinin bu yolda mesafe katetmesi çok zordur.

**Bu parçada geçen “şiiri bayramdan bayrama ziyaret edilen bir yâren olarak görmek” sözüyle anlatılmak istenen aşağıdakilerden hangisidir?**

- A) Şiiri yaşadıklarının bir yansıması olarak değerlendirmek
  - B) Şiirin zengin anlatım olanaklarının farkında olmamak
  - C) Mevcut durumunu koruyarak hayal dünyasını genişletme çabasında olmamak
  - D) Şiirlerinde yalnızca yaşamın güzelliklerini ele alarak sorunları göz ardı etmek
  - E) Şiirle ilişkisini sınırlı tutarak onu elde etmek için gerekli çabayı göstermemek
2. (I) 1896 yılında başlayan Olimpiyat Oyunları, “olimpiyat ruhu” da denilen, dostluğun ve centilmenliğin yaygınlaşmasını sağlayan en önemli organizasyonlardan biri. (II) 200’ün üzerinde ülkeyi temsil eden sporcuların katıldığı olimpiyatlar, dünyanın en kapsamlı spor etkinliği konumundadır. (III) Ancak işin ucunda her sporcunun rüyası olan olimpiyat madalyası, dünya çapında üne kavuşmak ve milyon dolarlık reklam anlaşmaları olunca olimpiyatların oluşturduğu kardeşlik iklimi unutulup yanlış yollara sapılabiliyor. (IV) Hayal kırıklığı oluştursa da hemen hemen her spor organizasyonunda bir doping skandalıyla karşılaşmak artık sıradan hâle geldi. (V) Dopingi engellemek pek de mümkün görünmüyor çünkü her engel, beraberinde farklı bir doping yönteminin ortaya çıkmasına neden oluyor.

**Bu parçada numaralanmış cümlelerden hangisi düşüncenin akışını bozmaktadır?**

- A) I
- B) II
- C) III
- D) IV
- E) V

3. Yazarın ikinci romanı *Samsara*, hem şimdiki anlatıyor hem de incelikli bir kurguyla rasathanelerin kurulduğu 16. yüzyıldaki döneme sürüklüyor okuru. Yapıt tasvir ve ruh çözümlemesinden ziyade diyalog ağırlıklı ilerleyen bölümleriyle yer yer bir tiyatro hatta bir film imgesi oluşturuyor. Gerek yazarın deneysel bir yapıt yaratma çabası gerekse felsefe, estetik, fizik, astronomi ve tarih gibi farklı disiplinlerden öğeleri ustaca birleştirmesi, *Samsara*’yı okunması gereken yapıtlar arasına sokuyor. Okur her bir ayrıntının arkasında keşfedilmeyi bekleyen gizemli bir anlam bulabiliyor. Romanın sonu, zarif bir çember çizerek okurun hayal gücüne kalıyor. Ön sözde yazar, dönemin yaşam tarzını çok da merak etmeyen okurların ikinci bölümü hiç okumayarak üçüncü bölüme geçebileceklerini söylüyor.

**Bu parçadan sözü edilen yapıt ve yazarıyla ilgili aşağıdakilerden hangisi çıkarılamaz?**

- A) Geçmiş ve bugünü iç içe anlattığı
  - B) Konuşmaların, yapıtı sinemasal bir dile yaklaştırdığı
  - C) Kimi bölümlerde gereksiz ayrıntıların yer aldığı
  - D) Okuru aktif kılan yönleri olduğu
  - E) Kurgusunun zengin bir birikime yaslandığı
4. Bir gönül hasretinden uzun sürdü yolumuz  
Bitti çıra tutmaktan ormanlarda kolumuz

**Bu dizelerde altı çizili sözde görülen söz sanatı aşağıdakilerin hangisinde vardır?**

- A) Bir masal meyvesi gibi paylaştık  
Mehtabı kırılmış dal uçlarından
- B) Bir gerçek içindeyim düşten güzel  
Sevdiğim gülüyor yanı başımda
- C) İt, işte önünde kapım, aralık  
Oda bıraktığın gün kadar ılık
- D) Saçında beyazları taradığın gün  
Beni sakladığın gözyaşında ara
- E) Yaz kış bir şey söyleyen sonsuz toprakta  
Çile çektim, yalnız kaldım ama yaşadım



5. (I) Efemera, gündelik yaşama ait "ıvır zıvır" olarak nitelendirilebilecek kısa ömürlü belgeleri ifade eden bir terimdir. (II) Söz gelimi sinema biletleri, tiyatro programları, el ilanları, afişler, posterler, tebrik kartları, takvim yaprakları efemera kategorisine girer. (III) Gündelik yaşamın ayrıntılarını gösteren efemera belgeleri, kültürel ve tarihsel çalışmalara ışık tutar. (IV) Bu yönüyle efemera koleksiyonculuğu, kültürel mirasın kuşaktan kuşağa aktarılması açısından son derece önemlidir. (V) Bugün özel koleksiyoncular dışında ulusal kütüphaneler ve müzeler de tarihin belli bir alanına ışık tutabilecek efemera koleksiyonları yapmaktadır.

**Bu parçada numaralanmış cümlelerde söz edilen "efemera" ile ilgili aşağıdakilerden hangisi yanlıştır?**

- A) I. cümlede, tanımı ortaya konmuştur.  
B) II. cümlede, bir önceki cümlede anlatılanlar örneklenmiştir.  
C) III. cümlede, içeriğindeki detayların hangi alanlarda kullanıldığıyla ilgili bilgi verilmiştir.  
D) IV. cümlede, geleneksel değerlerin yaşatılmasındaki işlevine değinilmiştir.  
E) V. cümlede, son yıllarda hızla yaygınlaşmasının altındaki etkenler vurgulanmıştır.
6. Aşure, sadece tatlı bir yiyecek değil, aynı zamanda kültürel ve dinî bir simgedir. Aşurenin malzemeleri, kendi aralarında uyum içindedir. Her malzeme kendi başına ayrı bir tat ve doku sunarken bir araya geldiklerinde ortaya çıkan lezzet ve denge âdeta bir sanat eserini andırır. Bu nedenle bizim kültürümüzde aşure; sadece bir tatlı olmanın ötesinde, birlik ve beraberliğin, hoşgörünün ve paylaşılan değerlerin önemli bir sembolüdür.

**Aşureyi ele alan bu parçadan hareketle "sosyal yaşam" ile ilgili aşağıdakilerden hangisine ulaşılabilir?**

- A) Toplumsal bellek, geçmişten gelen deneyimlerin aktarılmasını sağlar.  
B) Toplumsal değişim, süreklilik içeren bir süreçtir.  
C) Sivil toplum kuruluşları, toplumsal gelişim için gereklidir.  
D) Farklılıklara saygı, toplumsal huzur ve barışın temelini oluşturur.  
E) Sosyal eşitlik, toplumsal adaletin sağlanmasında çok önemlidir.

7. Enerji tüketimini azaltacak önlemler alan yeşil binalar, alternatif enerji kullanılmasını da sağladığı için büyük önem kazanır. Artan enerji talebi ve enerji tüketiminin neden olduğu çevre problemleri ülke ekonomilerini etkilediği için yeşil binaların hem çevresel hem de ekonomik üstünlükleri vardır. Yeşil binalarda insan yaşam kalitesinden ödün vermeden enerji tasarrufu yapmak gerekir. Öncelikli olarak bu binalar ışık dikkate alınarak konumlandırılır. Bu evlerin güneyinde yapraklarını döken ağaçlar, kuzey cephesinde ise iğne yapraklı ağaçlar bulunur. Güneş ışığından daha çok faydalanabilmek için güney cephede daha büyük pencereler bulunur. Bütün bunların yanı sıra enerji verimliliğini artırmak için binaların doğru ve yeterli düzeyde yalıtılması gerekir. Bu nedenle enerji tasarrufu sağlayacak malzemelerin kullanılması da önemlidir.

**Bu parçada "yeşil binalar"la ilgili aşağıdakilerden hangisine değinilmiştir?**

- A) Yöne bağlı olarak mimarisinde farklılıklar görüldüğüne  
B) Ülkelerin artan enerji ihtiyacına çözüm olduğuna  
C) Giderek artan bir ilgiyle karşılaştığına  
D) Çevre sorunlarının çözümünde daha az maliyetli bir alternatif oluşturduğuna  
E) Yaşam standartları yüksek aileler tarafından tercih edildiğine
8. Vara vara vardım ol kara taş  
Hasret ettin beni kavim kardaşa  
Sebepler ne, gözden akan kanlı yaşa  
Bir ayrılık, bir yoksulluk, bir ölüm

Karacaoğlan der, kondum, göçülmez  
Acıdır ecel şerbeti, içilmez  
Üç derdim var, birbirinden seçilmez  
Bir ayrılık, bir yoksulluk, bir ölüm

**Bu dizelerle ilgili aşağıdakilerden hangisi söylenemez?**

- A) Birden fazla kafiye çeşidi içerdiği  
B) Toplumsal geleneklerin eleştirildiği  
C) 11'li hece ölçüsü ile kaleme alındığı  
D) Düz kafiye düzeniyle yazıldığı  
E) Tapşırıma yer verildiği





9. • Epik şiir türüne örnektir.  
• 6+5 duraklı, çapraz uyaklıdır.  
• Mübalağa sanatına başvurulmuştur.  
• Tam kafiye ve redife yer verilmiştir.

**Verilen özellikler aşağıdaki dörtlülüklerin hangisinde bir arada görülmektedir?**

- A) Yüz bin mihnet ile bir bağ yetirdim  
Yemedim meyvesin el aldı gitti  
Ağlar gözyaşımı Ceyhun eyledim  
Çalkandı dünyayı sel aldı gitti
- B) Boşa bağlanmamış bülbül gülüne  
Kar koysan köz olur aşkın külüne  
Şaştım kara bahtım tahammülüne  
Taşa çalsam ezilmiyor Mihriban
- C) Kazanmak istersen sen de zaferi  
Gürleyen sesinle doldur gökleri  
Zafer dedikleri kahraman peri  
Susandan kaçır da çoşana gider
- D) O kadar dolu ki toprağın şanlı  
Bir değil, sanki bin vatan gibisin  
Yüce dağlarına çöken dumanla  
Göklerde yazılı destan gibisin
- E) Kırılır da bir gün bütün dişliler  
Döner şanlı şanlı çarkımız bizim  
Gökten bir el yaşlı gözleri siler  
Şenlenir evimiz barkımız bizim

**10. Aşağıdaki açıklamalardan hangisi ayraç içinde verilen kavramla uyuşmamaktadır?**

- A) Bir kişinin ölümü üzerine duyulan acıyı dile getirmek amacıyla söylenen şiirlerdir. (Sagu)
- B) Türklerin bilinen ilk yazılı edebî eseridir ve Göktürklerin tarihine ışık tutar. (Sekiz Yükme)
- C) Uzun deneyimler sonucu doğruluğu ispatlanmış kısa ve özlü sözlerdir. (Sav)
- D) Aşk, yiğitlik, kahramanlık, tabiat konularında söylenmiş şiirlerdir. (Koşuk)
- E) Savaş, göç ve afet gibi önemli olayların etkisiyle söylenmiş, uzun nitelikli şiirlerdir. (Destan)

11. Yeşil kurbağalar öter göllerde  
Kırıldı kanadım kaldım çöllerde  
Anasız babasız gurbet ellerde

Tez gel ağam tez gel, olma yalancı  
Benim ahım eder seni dilenci

Eğîn'in etrafı dağdır meşedir  
İçinde oturan beydir paşadır  
Yüz elli mahalle beş yüz köşedir

Tez gel ağam tez gel, olma yalancı  
Benim ahım eder seni dilenci

**Bu dizeler halk edebiyatında aşağıdakilerden hangisini örneklendirir?**

- A) Mâni                      B) Taşlama                      C) Türkü  
D) Güzelleme                      E) Koçaklama

12. XVII. yüzyılda kırsal kesimin, özellikle Türkmen boylarının muhafaza ettiği Türk kültür birikimine sahip bir ozandır. Günlük hayatın ihtiyaç ve kabulleri yanında inanç, değer, beklenti, düşünce ve algılamaları şiirinde etkili olmuştur. Duygu ve düşüncelerini kendine has bir üslupla ifade edebilen, estetik çağrışımlara ulaşan, çok yönlü ve başarılı bir şairdir. Evrensel insan tipinin duygu, ihtiyaç ve beklentilerini ulusal zevk ve estetikle yoğurarak millî nazım anlayışıyla kendi çağından sonraki asırlara ulaştırmıştır. Doğa benzetmeleri yanında çok yalın ve temiz bir Türkçe kullanır.

**Bu parçada sözü edilen ozan aşağıdakilerden hangisidir?**

- A) Karacaoğlan                      B) Dadaloğlu                      C) Seyrani  
D) Bayburtlu Zihnî                      E) Âşık Ömer

13. Divan edebiyatı, Osmanlı coğrafyasında, 13. yüzyıl son-  
larından 19. yüzyılın ikinci yarısına kadarki süreci kap-  
sayan bir dönemi ifade eder. Bu edebiyatın Anadolu sa-  
hasındaki kurucusu Hoca Mesud'dur. Divan şiiri soyut bir  
edebiyattır. Bu şiir anlayışında konu bütünlüğüne pek  
önem verilmemiştir. İyi eğitim görmüş şairler tarafından  
Arap ve daha çok Fars edebiyatlarının estetik yapısı üze-  
rine kurulmuş; sanatlı söyleyişi önde tutan, kuralcılığın  
ve geleneğin ağır bastığı bir şiir geleneğidir.

**Bu parçada numaralanmış bölümlerin hangisinde bir bilgi yanlışı vardır?**

- A) I      B) II      C) III      D) IV      E) V

14. ---- tarafından çıkarılan *Tercüman-ı Hakikat*, Tanzimat edebiyatının en uzun ömürlü ve itibarlı gazetesi olmuştur. 1870 yılından itibaren Teodor Kasap tarafından çıkarılan ---- ise edebiyatımızda ilk mizah dergisidir.

**Bu parçada boş bırakılan yerlere aşağıdakilerden hangisi sırasıyla getirilmelidir?**

- A) Âgâh Efendi - *Gayret*  
B) Ali Suavi - *Umran*  
C) Şinasi - *Malumat*  
D) Namık Kemal - *İkdam*  
E) Ahmet Mithat Efendi - *Diyojen*

15. Darabât-ı top-girân ve sademât-ı tüfenk-i ejder-dehân ile beden-i hisârı bî-cân u nâ-tûvân kılıp der u dîvârın berk-i bîd gibi lerzân itdiler. Sademe-i top-ı âteşinden zâviye-i sipihr-i berîne darîr u tanîn ârız olup atbâk-ı arzın öyle harekete geldi ki güyâ kürre-i zemîn top-ı âhenîne konup ol hisâr-ı metîne atıldı. Mancınık ve top sadasından zemin lerze dutdı düşdi kûh-i âhenin. Ve bil-cümle iki taraf askerinden sâika-vâr ve berk-âsâr toprak ile ceng ü âşûb- lar olup üçüncü gün küffâr-ı bed-fiâlin ekseri topları ibtâl olup cânib-i İslâm'dan tüfenk fındıkları hevâdan tayr-ı ebâbîl gibi erbâb-ı tadlîlin bedenlerini delüp niçe melâîn-i bed-âyîn helâk ve zîr-i hâk oldu.

**Bu parça aşağıdakilerden hangisinden alınmış olabilir?**

- A) Gazavatname  
B) Pendname  
C) Kıyafetname  
D) Surname  
E) Ruzname

16. 1911 yılında bazı sanatçılar *Selanik'te* çıkan *Genç Ka-  
lem* dergisinde *Yeni Lisan* anlayışını dile getirirler ve  
Millî Edebiyat'ı başlatırlar. Bu sanatçılar öncelikle dilde  
sadeleşmeyi ve yapıtlarda İstanbul Türkçesinin kullanıl-  
ması gerektiğini savunurlar. Türkçe karşılığı olan Arapça,  
Farsça tamlamaların kullanılmasına karşı çıkarken bir  
müddet daha aruz ölçüsüyle şiir yazmaya devam etme  
kararı alırlar.

**Bu parçada numaralanmış bölümlerin hangisinde bir bilgi yanlışı vardır?**

- A) I      B) II      C) III      D) IV      E) V

17. Deniz dışarda uzun sayhalarla bir hırçın  
Kadın gürültüsü neşreliyordu ortalığa  
— Yarın küçük gidecek yalnız, öyle mi, balığa  
— O gitmek istedi; “Sen evde kal!” diyor  
— Ya sakın  
O gelmeden ben ölürsem

Kadın bu son sözle  
Düşündü kaldı, balıkçıyla oğlu yan gözle  
Soluk dudaklarının ihtizâz-ı hâsirine  
Bakıp sükût ediyorlardı, başlarında uçan  
Kazayı anlatıyorlardı böyle birbirine  
Dışarda fırtına gittikçe pür-gazab, cûşan  
Bir ihtilâc ile etrafa ra’şeler vererek  
Uğulduyordu

**Biçim ve içerik özellikleri dikkate alındığında bu şiirin aşağıdaki şairlerden hangisine ait olduğu söylenebilir?**

- A) Cenap Şahabettin  
B) Ahmet Haşim  
C) Yahya Kemal Beyatlı  
D) Tevfik Fikret  
E) Ziya Paşa

18. I. Türklere özgü bir nazım şekli olma  
II. Beyit nazım birimiyle yazılma  
III. Nakarat bölümüne sahip olma  
IV. Aynı kafiye düzeniyle yazılma

**Yukarıda verilenlerden hangileri “tuyuğ” ve “şarkı”nın ortak özelliğidir?**

- A) Yalnız I                      B) Yalnız II                      C) Yalnız IV  
D) I ve II                      E) III ve IV

19. Bihruz Bey, ilk hevesle beş altı ay kadar kaleme devam ederek daha Fransızca bir ibare okumaya iktidar hasıl etmeden ağızdan bellediği bir hayli elfaz ve terakib ile en alafranga genç beylerin tavır ve kıyafet ve hâl ve hareketini taklitte hakkâ ki bir büyük eser-i istidât gösterdi. Bihruz Bey, vâlideyninin tek evladı olduğu için zaten pek şımarık büyümüş idi. Pederin servet ve sâmanı mahdumun her arzu ettiği şeyi kolaycacık istihsal edebilmesine müsait olduğu gibi gençlik îcâbâtından olan temâyülâtına da hiçbir taraftan bir gûne mûmâna’at görmediği cihetle Bihruz Bey, sonraları kaleme gidip gelmeyi pek seyrekleştirmiş idi.

**Bir bölümü verilen bu romanla ilgili aşağıdakilerden hangisi söylenemez?**

- A) Recaizade Mahmut Ekrem tarafından yazılmıştır.  
B) Türk edebiyatının ilk realist romanı olma özelliğini taşımaktadır.  
C) Kahramanlarından birinin adı, Mahpeyker’dir.  
D) Dönemindeki Batılılaşma sürecinin yanlış özelliklerini ele almaktadır.  
E) Yazarının tek romanıdır.

20. • 15. yüzyılda divan şiirini söyleyiş ve içerik açısından olgunlaştırmış, “Hüsrev-i Rum” olarak adlandırılmıştır.  
• Sade ve doğal bir dille kaleme aldığı gazellerinde mahallîleşme akımının ilk izlerini görmek mümkündür.  
• Deyim ve atasözlerine geniş yer verdiği şiirlerinde konuşma dilinin bazı özelliklerini başarıyla kullanmıştır.

**Bazı özellikleri verilen sanatçı aşağıdakilerden hangisidir?**

- A) Ahmet Paşa                      B) Şeyhî  
C) Necati Bey                      D) Bakî  
E) Taşlıcalı Yahya



21. Roman, Türkiye'nin modernizme geçiş sürecinin ve bu süreçte yaşanan toplumsal sorunların anlatıldığı bir eserdir. Romanda iki uygarlık arasında bocalayan toplumun hatalı tutumları ve davranışları alaycı bir şekilde eleştirilmektedir. Roman, birinci bölümden sonuncu bölüme kadar, bir kişinin yaklaşık 50 senesini konu edinir. Romanda gelenekselciliği ve Türk modernleşmesini temsil eden karakterler vardır. Gelenekselciliğin olumlu yönünü Muvakkit Nuri Efendi, olumsuz yönünü ise Seyit Lütfullah temsil eder. Türk modernleşmesini temsil eden karakter Halit Ayarlı'dır. Romanın hem anlatıcısı hem de başkahramanı ise Hayri İrdal'dır. Çocukluğu Abdülhamit Dönemi'nde geçen, Meşrutiyet ve Cumhuriyet yıllarında da yaşayan İrdal, geleneksel toplum düzeninden modernizme geçiş sürecindeki Türkiye'yi temsil etmektedir.

**Aşağıdakilerden hangisi, bu parçada sözü edilen romanın yazarına ait bir eserdir?**

- A) *Aylak Adam* B) *Huzur*  
C) *Fahim Bey ve Biz* D) *Canan*  
E) *Kürk Mantolu Madonna*

22. Onun samimiyetle Türk halk kültüründen beslenen bir Cumhuriyet şairi olduğu açıktır. Halka Cumhuriyet'in faziletlerini ve bu yönetim sisteminin Türk milletine getireceği, yeni ve insan onuruna çok yakışan yaşama biçimini aşılama amacıyla sadece yetişkinler için değil çocuklar için bile manzumeler yazmıştır. Onun eserlerinde büyük yer kaplayan en önemli tema, Anadolu'ya ve Türk milletine duyduğu sevgidir. Kendisini "60 yaşında bir köy çocuğu" olarak niteleyen sanatçı; *Burada Bir Kalp Çarpıyor*, *Erciyes'ten Kopan Çiğ*, *Benden İçeri* gibi şiir kitaplarında "bitmez tükenmez Anadolu"sunu anlatır. Anadolu; onun için şehrin resmîyetine, yapaylığına karşı direnen doğallık coğrafyasıdır.

**Bu parçada söz edilen şair, aşağıdakilerden hangisidir?**

- A) Cahit Külebi B) Kemalettin Kamu  
C) Bedri Rahmi Eyüboğlu D) Behçet Kemal Çağlar  
E) Ahmet Kutsi Tecer

23. ---- akımına bağlı sanatçılar, gerçeklerin bozulmadan, tabii hâllerile insanın bilinçaltında var olduğuna inanır. Bilinçaltı insanın arzularının ve korkularının değişmeden, başka bir şeye dönüşmeden saf bir hâlde bulunduğu değerli bir kaynaktır. Onlar; düşlerin, rüyaların insanın kendini kavramasına ve en yüce bilgiyi edinmesine imkân verdiğini düşünür. Zihin kendi hâline bırakılınca varlıkların ve eşyaların daha önce göremediğimiz tarzda göründükleri, düş renkleriyle süslandıkları bir hayal oyunu dünyasında dolaşmaya başlar. Çılgınlık ve düş durumlarında her türlü denetimden arındırılan bilinç dışı, kendiliğinden belirir ve otomatik yazı, bilinç dışının bildirilerini yazıya dönüştürür.

**Bu parçada boş bırakılan yere aşağıdakilerden hangisi getirilmelidir?**

- A) Sürrealizm B) Parnasizm  
C) Fütürizm D) Sembolizm  
E) Egzistansiyalizm

24. İkinci Yeni şairleriyle ilgili aşağıdakilerden hangisi söylenemez?

- A) Sözcükleri, gündelik kullanımlardaki anlamları yerine, çağrışımlarla derinleşen ve çoğalan anlamlarıyla kullanmışlardır.  
B) Konu, öykü ve olayı şiirin bünyesinden silmek istemişler ve buna bağlı olarak da betimlemeye yönelmişlerdir.  
C) Söz sanatlarına artık gerek olmadığını düşündüklerinden şiirlerde söz sanatlarını az kullanmışlardır.  
D) Şiirin diğer sanat dallarıyla ilişki içinde olması gerektiğine inanmışlar, özellikle musiki ve resme ait görsel imgelerden yararlanmışlardır.  
E) Şiirde nükte, şaşırtmaca ve tekerlemeden kaçınmışlardır.

25. İbn-i Haldun tarih bilimini “Tarih, gerçeği araştırmak ve olayların sebeplerini bulup ortaya koymaktır. Olayların ilkeleri incedir, nitelik ve sebepleri hakkındaki bilgiler derindir.” şeklinde tanımlamıştır.

**Bu tanımlamadan hareketle aşağıdaki yargılardan hangisine ulaşamaz?**

- A) Olaylar belge, veri ve kaynaklara dayandırılarak aktarılmalıdır.
- B) İnsanın yaşam serüveni neden-sonuç ilişkisiyle ele alınmalıdır.
- C) Olayların nasıl olduğu sorusuna cevap aranmalıdır.
- D) Olaylar ve olgular doğru açıklanmalı ve aktarılmalıdır.
- E) Tarihçiler sadece yazılı kaynaklardan yararlanmalıdır.

26. Dönemin ileri gelen âyanları ile II. Mahmut arasında 1808'de imzalanan Sened-i İttifak'ın mimarı aşağıdaki devlet adamlarından hangisidir?

- A) Alemdar Mustafa Paşa
- B) Mustafa Reşit Paşa
- C) Kavalalı Mehmet Ali Paşa
- D) Ahmet Cevdet Paşa
- E) Gazi Osman Paşa

27. İstemi Yabgu'nun, 567 yılında İstanbul'a gönderdiği elçilik heyetine karşılık Bizans'ın da İstemi Yabgu'ya elçi göndermesi aşağıdakilerden hangisine karşı Kök Türk-Bizans ittifakının kurulmasına neden olmuştur?

- A) Batı Roma İmparatorluğu
- B) Akhun Devleti
- C) Sasani İmparatorluğu
- D) Safevi Devleti
- E) Çin İmparatorluğu

28. 1390 baharında I. Bayezid yanına Sırp Kralı Lazaroviç ile Bizans İmparatorunun oğlu veliaht Manuil'i alarak çıktığı Anadolu Seferinde; Aydın, Saruhan, Germiyan, Menteşe ve Hamitoğulları beyliklerine son vermiştir.

**Bu gelişmeler aşağıdakilerden hangisine ortam hazırlamıştır?**

- A) Başkentin Bursa'ya taşınmasına
- B) Anadolu Beylerbeyliği'nin kurulmasına
- C) Timur'un Anadolu'dan çekilmesine
- D) Şahkulu İsyanı'nın çıkmasına
- E) Halifenin I. Bayezid'e “Sultan-ı İklim-i Rum” ünvanı vermesine

29. Tarihte “1916 Taksim Projesi” ya da “Sykes-Picot Projesi” de denilen gizli anlaşmayla Suriye, Lübnan, Ürdün, Irak ve Filistin aşağıdaki devletlerden hangileri arasında paylaşılmıştır?

- A) Rusya – İngiltere
- B) İtalya – Yunanistan
- C) Fransa – İngiltere
- D) Almanya – Avusturya
- E) İtalya – Almanya

30. Aşağıdakilerden hangisi Mondros Ateşkes Antlaşması'nın 24. Maddesi'ndeki “Altı doğu vilayetinde bir karışıklık çıkarsa, o iller güvenliğinin sağlanması adına işgal edilecektir.” hükmüne ve Doğu Anadolu'da bulunan Ermeni komitacıların faaliyetlerine karşı bir önlem amacı taşımıştır?

- A) Redd-i İlhak Cemiyeti'nin kurulması
- B) Erzurum Kongresi'nin toplanması
- C) Saltanat Şurası'nın toplanması
- D) Sevr Antlaşması'nın imzalanması
- E) Sultan Mehmet Reşat'ın Kutsal Cihat ilan etmesi

31. Tarih öğretmeni, Selin'e ödev olarak I. İnönü Savaşı konusunu vermiştir. Selin hazırladığı ödevde I. İnönü Savaşı'nın BMM'ye sağladığı kazanımlardan beşini yazmış, ancak öğretmeni bunlardan birinin yanlış olduğunu belirtmiştir.

**Buna göre öğretmenin, Selin'in ödevinde yanlış olduğunu belirttiği kazanım aşağıdakilerden hangisi olmuştur?**

- A) BMM'nin Londra Konferansı'na davet edilmesi
- B) Teşkilat-ı Esasiye Kanunu'nun yürürlüğe konulması
- C) Moskova Antlaşması'nın imzalanması
- D) İstiklal Marşı'nın kabul edilmesi
- E) Maarif Kongresi'nin toplanması

32. 9. Ordu Müfettişi Mustafa Kemal Paşa'ya İstanbul Hükûmeti tarafından 8-9 Temmuz gecesi "O hâlde resmî göreviniz sona ermiştir." şeklinde bir telgraf gönderilmesinde aşağıdakilerden hangisi etkili olmuştur?

- A) Bandırma vapuruyla Samsun'a çıkması
- B) İstanbul'a çağırılmasına rağmen bu emre uymayarak Erzurum'a hareket etmesi
- C) General J. Harbord (Jems Harbird) ile görüşmesi
- D) Sivas'ta toplanan millî kongreye katılması
- E) Anadolu ve Rumeli Müdâfaa-i Hukuk Cemiyeti'nin kurulmasını sağlaması

33. Osmanlı Devleti'nde taşra teşkilatının çekirdeğini oluşturan seyfiye ve ilmiye sınıfına mensup görevliler aşağıdakilerin hangisinde birlikte verilmiştir?

İlmiye	Seyfiye
A) Kadi	Subaşı
B) Müderris	Reaya
C) Beylerbeyi	Vezir
D) Subaşı	Sancakbeyi
E) Kazasker	Cebelü

34. Abbasi halifesi Kaimbiemrillah'ın, Büveyhoğulları'nın varlığına son veren Selçuklu hükümdarı Tuğrul Bey'e altın kılıç, sancak, hilat vermesi ve onu "Şarkın ve Garbın Sultanı" ilan etmesi aşağıdakilerden hangisinin bir sonucudur?

- A) Rey şehrini başkent yapmasının
- B) Oğuz İsyanı'nı bastırmasının
- C) Dandanakan Savaşı'nı kazanmasının
- D) Büveyhoğullarına karşı Bağdat Seferi'ne çıkmasının
- E) İbrahim Yıнал ve Kutalmış'ı fetihler için Anadolu'ya göndermesinin

35. 2004 yılında Endonezya'nın Hint Okyanusu'na bakan kıyılarında gerçekleşen 9,1 büyüklüğündeki deprem, akabinde büyük bir tsunamiye neden olmuştur. Çok hızlı ilerleyen ve Endonezya başta olmak üzere Malezya, Tayland, Myanmar, Bangladeş, Hindistan, Yemen, Somali, Kenya ve Tanzanya'da etkili olan tsunami, bölgede erken uyarı sisteminin bulunmaması nedeniyle kayıpları daha da artırmıştır. Bu felaket sonucu yüz binlerce kişi hayatını kaybetmiş, 5 milyona yakın insan evsiz kalmış, bitki örtüsü ve ekosistem ciddi anlamda zarar görmüştür. Turistlerin uğrak noktaları olan bu ülkelerde, yaşanan olay sonrası turizm gelirleri yaklaşık %60 azalmıştır.

**Yukarıdaki doğa olayı ile ilgili aşağıdaki bilgilerden hangisi yanlıştır?**

- A) Ekstrem bir doğa olayıdır.
- B) Jeolojik kökenli olaylar arasındadır.
- C) Etki alanı geniştir.
- D) Büyük boyutlu kasırgalara yol açabilmektedir.
- E) Doğal ve beşerî hayatı kesintiye uğratmıştır.

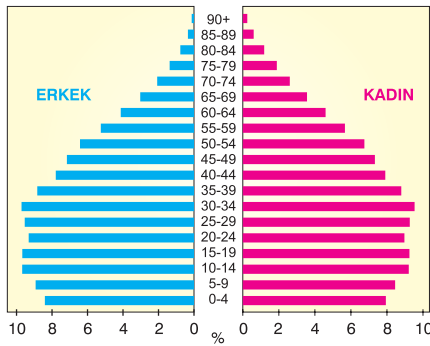


36. I ve II. Dünya savaşlarında milyonlarca insan yaşamını yitirmiş, siyasi ve ekonomik alanlarda birçok sorun meydana gelmiştir. Bu siyasi, askerî ve ekonomik sorunların tekrar yaşanmaması için küresel ve bölgesel örgütler kurulmuştur.

**Buna göre, aşağıdaki örgütlerden hangisinin kuruluş amaçları arasında "üye ülkelerden herhangi birine yapılan saldırıyı tüm üye ülkelere yapılmış olarak kabul etmek" yer alır?**

- A) Birleşmiş Milletler (BM)
- B) Kuzey Atlantik Antlaşması Örgütü (NATO)
- C) Bağımsız Devletler Topluluğu (BDT)
- D) Avrupa Birliği (AB)
- E) İslam İşbirliği Teşkilatı (İİT)

37. Aşağıda bir ülkenin nüfus piramidi verilmiştir.



**Bu ülkenin son yıllarda uyguladığı nüfus politikaları arasında;**

- I. kreş giderlerinin devlet tarafından karşılanması,
- II. kadın istihdamının artırılması,
- III. evlenme yaşının yükselmesi

**gelişmelerinden hangileri yer alır?**

- A) Yalnız I
- B) Yalnız III
- C) I ve II
- D) I ve III
- E) II ve III

38. Türkiye'nin ilk bölgesel kalkınma projesi olan Güneydoğu Anadolu Projesi, Fırat-Dicle havzalarında 22 baraj, 19 hidroelektrik santrali ile sulama sistemlerinin yapımını amaçlayan en büyük yatırımlardan biridir.

**Bu projelerin hayata geçirilmesinin kazanımları arasında aşağıdakilerden hangisi yer almaz?**

- A) Yenilenebilir enerji üretiminin artması
- B) Tarımsal ham madde üretimin artması
- C) Bölge dışına olan göçlerin azalması
- D) Nadas alanlarının azalması
- E) Tarımsal istihdamın azalması

- 39. I. Maddi sermaye
- II. Teknoloji üretimi
- III. Yapay zeka
- IV. Kas gücü

**Sanayi toplumundan bilgi toplumuna geçişte ekonominin yapısal dönüşümü dikkate alındığında, yukarıdakilerden hangilerinin daha fazla önem kazanaçağı söylenebilir?**

- A) I ve II
- B) I ve III
- C) II ve III
- D) II ve IV
- E) III ve IV

40. Dünya nüfusunun hızla artması yeni tarım alanlarına olan ihtiyacı artırmaktadır.

**Buna göre;**

- I. göller ve bataklıklar,
- II. ormanlar,
- III. kömür havzaları,
- IV. ana karalara uzak adalar

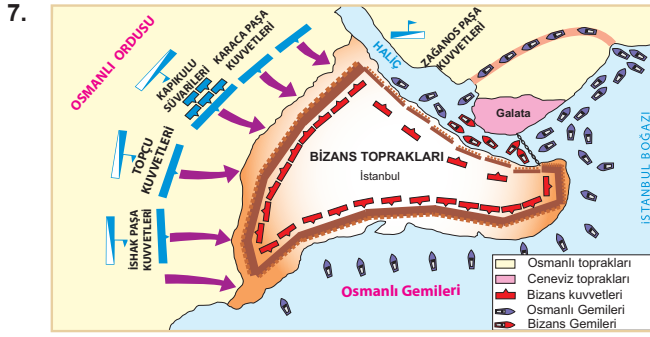
**ortamlarından hangilerine, yeni tarım alanlarının oluşturulması amacıyla daha fazla müdahale edilmektedir?**

- A) I ve II
- B) I ve III
- C) II ve III
- D) II ve IV
- E) III ve IV

## SOSYAL BİLİMLER-2 TESTİ

- Bu testte sırasıyla, Tarih-2 (1-11), Coğrafya-2 (12-22), Felsefe Grubu (Felsefe, Psikoloji, Sosyoloji, Mantık) (23-34), Din Kültürü ve Ahlak Bilgisi (35-40), Din Kültürü ve Ahlak Bilgisi dersini yasal olarak almak zorunda olmayan veya farklı müfredat ile alanlar için Felsefe Grubu (41-46) alanlarına ait toplam 46 soru vardır.
- Cevaplarınızı, cevap kâğıdının Sosyal Bilimler-2 Testi için ayrılan kısmına işaretleyiniz.

- Asya Hun Devleti'nin MÖ 54'te Doğu ve Batı olmak üzere ikiye ayrılmasıyla sonuçlanan Ho-han-yeh ve kardeşi Çi-çi arasındaki mücadelenin aşağıdakilerden hangisinden kaynaklandığı söylenebilir?**
  - Kut inancından
  - Konargöçer yaşam tarzından
  - Ordu-millet anlayışından
  - Sosyal devlet anlayışından
  - Boy teşkilatlanmasından
- Osmanlı Devleti ile Çarlık Rusya'nın savaştığı Kafkasya Cephesi, 3 Mart 1918'de aşağıdakilerin hangisiyle kapanmıştır?**
  - Sevr Antlaşması'yla
  - Brest-Litovsk Antlaşması'yla
  - General Harbord Raporu'yla
  - Lozan Antlaşması'yla
  - Paris Barış Konferansı'yla
- Aşağıdakilerden hangisi Emevilerle birlikte İslam Devleti'nde meydana gelen değişimlerden biri değildir?**
  - Başkentin Kûfe'den Şam'a taşınması
  - Halifeliğin saltanata dönüşmesi
  - Arap olmayan Müslümanların mevali olarak anılması
  - Arapçanın resmi dil ilan edilmesi
  - Beytülmal adıyla devlet hazinesinin oluşturulması
- Osmanlı Devleti XX. yüzyılda girdiği aşağıdaki savaşlardan hangisiyle Avrupa'daki topraklarının %83'ünü, nüfusunun %69'unu ve devlet gelirleri ile ziraat potansiyelinin önemli bir bölümünü kaybetmiştir?**
  - I. Balkan Savaşı
  - II. Balkan Savaşı
  - Trablusgarp Savaşı
  - Kırım Savaşı
  - 93 Harbi
- I. Büyük Millet Meclisi'nin "Güçler birliği" ilkesini esas alması aşağıdakilerden hangisini kolaylaştırmıştır?**
  - Laik düzene geçmeyi
  - Kanun-ı Esasi'yi hazırlamayı
  - Cumhuriyet'i ilan etmeyi
  - Millî birliği ve bağımsızlığı sağlamayı
  - Kuvay-ı Millîye birliklerini sayıca artırmayı
- Klasik Dönem'de Osmanlı Devleti'nde köy ve şehirlerin imar edilmesi, dinî hizmetlerin sürdürülmesi ve sosyoekonomik hayatın canlandırılması aşağıdakilerden hangisiyle sağlanmıştır?**
  - İstimalet usulüyle
  - Vakıf sistemiyle
  - Lonca teşkilatıyla
  - Devşirme sistemiyle
  - İltizam usulüyle



Aylin Öğretmen, Mayıs 1453 tarihini gösteren yukarıdaki haritayı tahtaya yansıtmış ve öğrencilerinden haritadaki bilgilerden yararlanarak yorum yapmalarını istemiştir.

**Buna göre öğrenciler aşağıdaki yorumlarından hangisini yaparsa yanlış olur?**

- A) **Deniz:** Osmanlı ordusu ateşli silahlara sahiptir.  
 B) **Betül:** Bizans'ın dış yardım alması önlenmeye çalışılmıştır.  
 C) **Erdem:** İstanbul hem karadan hem de denizden kuşatılmıştır.  
 D) **Mert:** Ceneviz gemileri, Osmanlı donanmasını geçerek Haliç'e girmiştir.  
 E) **Nazlı:** Bizans savunma stratejisi izlemiştir.

8. **Hititlerin tarihin ilk meşruti krallık yönetimini kuran uygarlık olarak kabul edilmesinde aşağıdakilerden hangisi etkili olmuştur?**

- A) Kralların tanrılara hesap verme düşüncesiyle yıllıklar tutturması  
 B) Kadın haklarını koruyucu kanunlar hazırlamaları  
 C) Pankuş Meclisi'nin yönetimde etkin olması  
 D) Ordularında gerektiğinde ücretli askerler de istihdam etmeleri  
 E) Hür-köle ayrımını devam ettirmekle birlikte kölelere geniş haklar tanımları

9. **Süryani Tarihçi Mihael (Mihayel),** "Rumlar çıkarılan emirname ile batıl mezheplerini kabul etmeye zorluyordu. İstanbul patriği, kiliselerimizde bulunan mukaddes kitaplarımızı yaktırdı."

**Ermeni Tarihçi Urfalı Mateos (Mateyos),** "Doğudaki sorunu çözmek üzere sefere çıkan Romanos Diogenes (Roman Diyojen), Sivas'a ulaştığında şehirdeki Ermeniler, Türklerden yana tavır sergileyince imparator sefer dönüşünde Ermeni mezhebini kaldıracığına dair yemin eder."

**Süryani ve Ermeni tarihçilerin bu aktarımlarına bakılarak XI. yüzyılda Anadolu ile ilgili;**

- I. çok uluslu bir toplum yapısının olduğu,  
 II. Hristiyanlar arasında mezhep birliğinin olmadığı,  
 III. Bizans yönetiminin tepki çeken politikalarının olduğu

**çıkartımlarından hangileri yapılabilir?**

- A) Yalnız I                      B) Yalnız II                      C) I ve II  
 D) I ve III                      E) I, II ve III

10. **Millî Mücadele Dönemi'nde TBMM'de sert tartışmalar yaşanmasına ve Mustafa Kemal'in ordunun başına geçmesi talebinin öne çıkmasına aşağıdakilerden hangisi neden olmuştur?**

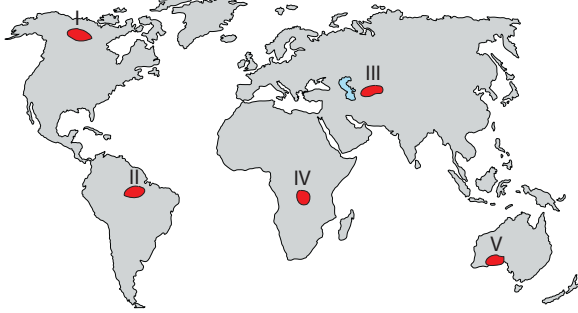
- A) Kuvay-ı Milliye'nin dağıtılması  
 B) Mebuslar Meclisi'nin İtilaf Devletleri'nce dağıtılması  
 C) Lozan Görüşmeleri'nin kesintiye uğraması  
 D) Yunanların İzmir'e asker çıkarması  
 E) Kütahya-Eskişehir Muharebeleri'nin kaybedilmesi

11. **Bir tarihçinin,** "1596'da yapılan mücadelede Avusturya topçusunun üstün ateş gücü nedeniyle savaş Osmanlı aleyhine dönse de Osmanlı ordusunun galibiyetiyle sonuçlanan bu büyük savaştan sonra meydan savaşları, yerini artık siper savaşlarına bıraktı." **şeklinde tanımladığı savaş aşağıdakilerden hangisidir?**

- A) Otuzyıl Savaşları                      B) Zenta Savaşı  
 C) Haçova Savaşı                      D) Kırım Harbi  
 E) Niğbolu Savaşı



12. Benzer yetişme şartlarına sahip bitki ve hayvan topluluklarını içinde barındıran bölgelere biyom denir. Biyomların sınırları kesin hatlarla belirli olmayıp komşu biyomlar arasında her iki biyomun özelliklerini yansıtan geçiş sahaları bulunur.



**Buna göre, haritada numaralandırılmış yerlerden hangisinde ot, yosun, liken ve çalılar ile çam, göknar ve ladin gibi iğne yapraklı ağaçlar bir arada bulunur?**

- A) I      B) II      C) III      D) IV      E) V

13. Sanayi Devrimi ve sonrasında çevre sorunlarına en fazla neden olan faktörlerin başında endüstri üretim bölgeleri gelmektedir.

**Bu bölgelerdeki çevre sorunlarının azaltılması için yapılması gerekli çalışmalar arasında aşağıdakilerden hangisi yer almaz?**

- A) Fabrika bacalarına filtre takılması  
B) Fosil yakıtların kullanımının azaltılması  
C) Yenilenemeyen kaynakların kullanımının yaygınlaştırılması  
D) Atıkların ayrıştırılarak doğaya zarar vermeyecek duruma getirilmesi  
E) Geri dönüşüm sistemlerinin yaygınlaştırılması

14. Avrupa ve İslam kültürleri için;

- I. Dil ve ırklar bakımından farklılık gösterir.  
II. Coğrafi Keşiflerle farklı kıtalara yayılmışlardır.  
III. Diğer kültürlerden izole olmuşlardır.

**özelliklerinden hangilerinin ortak olduğu söylenebilir?**

- A) Yalnız I      B) Yalnız III      C) I ve II  
D) I ve III      E) II ve III

15. Aşağıdaki Türkiye haritasında İstanbul'dan İzmir'e giden bir gezi grubunun güzergâhı gösterilmiştir.



**Bu gezi grubunun "?" işareti ile belirtilen yerde ziyaret ettiği antik kent aşağıdakilerden hangisidir?**

- A) Alacahöyük      B) Efes      C) Çatalhöyük  
D) Termessos      E) Truva

16. Şehirler, kurulduğu mekânın yanı sıra çevrelerini de etkiler. Ancak her şehrin etki alanı birbirinden farklıdır. Şehirlerin etki alanının sınırları, sahip olduğu işlevsel özelliklerle yakından ilgilidir.

**Buna göre, aşağıdaki şehirlerden hangisinin küresel etkiye sahip olmasında finans, borsa, liman faaliyetleri ile teknoloji üretimi etkili olmuştur?**

- A) Moskova      B) Paris      C) Hamburg  
D) Tokyo      E) Manchester

17. Hükümetlerarası İklim Değişikliği Paneli (IPCC), yayınladığı raporlarda küresel sıcaklıklarda 1,5-2 °C'lik artış senaryolarına yer vermiştir. Bu senaryolardan hareketle karbon emisyonlarında azalma olmadığı takdirde sıcaklık artışının 4 °C'yi bulacağı tahmin edilmektedir.

**Buna göre küresel ısınmada meydana gelen yukarı yönlü bu seyrin olumsuz sonuçları arasında aşağıdakilerden hangisi yer almaz?**

- A) Tatlı su kaynaklarının azalması  
B) Tarım ürünlerinin olgunlaşma süresinin kısalması  
C) Buzulların erime hızının artması  
D) Kuraklığın artması  
E) Salgın hastalıkların yayılma süresinin azalması

18. Sanayide ham maddeye duyulan ihtiyacın fazla olması nedeniyle bazı sanayi tesisleri ham madde kaynağına yakın kurulmuştur.

**Buna göre;**

- I. Samsun Bakır İzabe Tesisleri,
- II. Ereğli Demir Çelik Fabrikası,
- III. Konya Şeker Fabrikası,
- IV. Çaycuma Kağıt Fabrikası

**tesislerinden hangilerinin kuruluşunda bu durum etkili olmuştur?**

- A) I ve II                      B) I ve IV                      C) II ve III  
D) II ve IV                      E) III ve IV

19. Aşağıdaki haritada bazı yerler numaralandırılarak koyu renkle gösterilmiştir.



**Bu yerlerdeki ekonomik faaliyetlerle ilgili olarak aşağıdaki ifadelerden hangisi yanlıştır?**

- A) I numaralı yerde sermaye kaynaklarının fazla olması tüketimi artırmıştır.
- B) II numaralı yerde yeryüzü şekillerinin elverişsiz olması dağıtım faaliyetlerini olumsuz etkilemiştir.
- C) III numaralı yerde dağınık yerleşmelerin yaygın olması dağıtım ve pazarlamanın güvenli ve hızlı bir şekilde yapılabilmesini zorlaştırmıştır.
- D) IV numaralı yerde üretim, dağıtım ve tüketim faaliyetleri yaygındır.
- E) V numaralı yerde madensel ham madde kaynaklarının yetersiz olması üretimin az olmasına neden olmuştur.

20. Kapsül evler ve stüdyo daireler insanların banyo ve mutfak gibi zorunlu ihtiyaçlarını karşılayabileceği küçük ünitelerden oluşan yaşam alanlarıdır.

**Şehirlerde bu tür yerleşmelere olan ihtiyaçların artmasında aşağıdakilerden hangisinin etkisi daha azdır?**

- A) Yerleşim alanlarının dar olmasının
- B) Nüfus miktarlarının hızla artmasının
- C) Konut fiyatlarının yüksek olmasının
- D) Çevre sorunlarının artmasının
- E) Kültürel çeşitliliğin fazla olmasının

21. Ekonomi politikası, devletlerin belli ekonomik hedeflere ulaşabilmek için kararlar alması ve bu doğrultuda uygulamalar yapmasıdır. Türkiye’de çeşitli dönemlerde farklı ekonomi politikaları uygulanmıştır.

**Aşağıdakilerden hangisi 1980 sonrası dönemde uygulanan ekonomi politikalarından biridir?**

- A) 24 Ocak Kararları’nın alınması
- B) Devlet Planlama Teşkilatı’nın (DPT) kurulması
- C) Teşviki Sanayi Kanunu’nun çıkarılması
- D) 5 yıllık kalkınma planlarının uygulanmaya başlaması
- E) Özel sektör yatırımlarının azaltılması

22. Gelişmiş ülkelerde tarımsal faaliyetler, ülke ihtiyacını karşılama, sanayi ham maddesi elde etme veya ihracat gibi amaçlarla yapılmaktadır. Bu tür ülkelerde entansif tarım metodu kullanılmaktadır.

**Buna göre, bir ülkede tarımın bu yöntemlerle yapıldığına;**

- I. üretimde yıllar arasındaki dalgalanmaların az olması,
- II. ülke topraklarının büyük bir kısmının tarımsal faaliyetler için elverişli olması,
- III. birim alandan alınan verimin fazla olması,
- IV. üretilen tarım ürünlerinin daha çok ülke içerisinde tüketilmesi

**durumlarından hangileri kanıt olarak gösterilebilir?**

- A) I ve II                      B) I ve III                      C) II ve III  
D) II ve IV                      E) III ve IV