



Türkiye Geneli

LGS DENEME 1

SÖZEL BÖLÜM

Türkçe
T.C. İnkılap Tarihi ve Atatürkçülük
Din Kültürü ve Ahlâk Bilgisi
İngilizce

SINAV KODU
0 8 1 2 4

A

T.C. KİMLİK NUMARASI	
ADI - SOYADI	
ÖĞRENCİ NUMARASI	

ADAYIN DİKKATİNE!

SINAV BAŞLAMADAN ÖNCE AŞAĞIDAKİ UYARILARI MUTLAKA OKUYUNUZ.

Yanıt Kâğıdınıza;

- ✓ Adınızı Soyadınızı,
- ✓ T.C. Kimlik Numaranızı,
- ✓ Sınıfınızı,
- ✓ Kurum MEB kodunuzu,
- ✓ Okul numaranızı,
- ✓ Kitapçık türünü **KODLAYINIZ.**
- ✓ Sınav kodunu **YAZINIZ.**

1. Bu sınavda yanıtlayacağınız soru sayısı 50, süre 75 dakikadır.
2. Yanıt kâğıdınızı siyah kurşun kalem ile işaretleyiniz.
3. Örnek kodlama: (A) (B) (C) (D)
4. Sınav sonuçları, sınav tarihinden sonraki hafta içinde "ozdebir.org.tr → Sınav Sonuçları" bölümünden görülebilecektir.

Sözel ve Sayısal Bölümler için;

- Ayrı optik cevap kâğıtları kullanıldığı takdirde her iki bölümün puanlarının birleştirilebilmesi için optik cevap kâğıtlarında **aynı T.C. Kimlik numarasının** ve **aynı öğrenci numarasının** kodlanması gerekmektedir.
- Farklı kodlama yapıldığında cevap kâğıtlarınız eşleştiremeyecek ve puanlarınız hesaplanamayacaktır.

★ **ÖZDEBİR'in hazırladığı bu sınavların her hakkı saklıdır. Hangi amaçla olursa olsun, tamamının veya bir kısmının ÖZDEBİR'in yazılı izni olmadan kopya edilmesi, fotoğraflarının çekilmesi, bilgisayar ortamına alınması, herhangi bir yolla çoğaltılması, yayımlanması veya başka bir amaçla kullanılması yasaktır. Bu yasağa uymayanlar doğabilecek hukuki ve cezai sorumluluğu, testlerin hazırlanmasındaki mali külfeti peşinen kabullenmiş sayılır.**



ÖZDEBİR
YAYINLARI

41. TÜYAP KİTAP FUARI
İSTANBUL



**İNDİRİM
KUPONU**

Tüm kitaplarda +%10 indirim

SALON: 3 STAND: 332

TÜRKİYE GENELİ LGS DENEME İŞ TAKVİMİ

- Yanıt anahtarları ve video çözümler, sınav sonrası ilk Pazartesi günü Saat 13.00'te yayınlanır.
- Sınav bitiminde toplanan soru kitapçıkları, sınav sonrası ilk Salı gününden önce dağıtılmaz.
- Sınavın kesin sonuçları ve sıralama listeleri, sınavdan 10 gün sonra yayınlanır.

“ Değerli Öğrencimiz,

Bu denememizin sonucunda bilgi eksiklerinizi, Türkiye genelindeki yaklaşık sıranızı ve puanınızı görebileceksiniz.

Soruların ve yanıtlarının paylaşılmaması, sınav kurallarına uyulması sizin ve tüm öğrencilerimizin en doğru sonuçlara ulaşmasını sağlayacaktır.

Gösterdiğiniz duyarlılığa teşekkür eder, başarılar dileriz.

”

Deneme sınav tarihlerimizi www.ozdebir.org.tr adresinden takip edebilirsiniz.

TÜYAP
www.tuyap.com.tr

TÜRKİYE YAYINCILAR BİRLİĞİ
TURKISH PUBLISHERS ASSOCIATION

41.

ULUSLARARASI İSTANBUL KİTAP FUARI

Salon: 3
Stand: 332'deyiz

Tüm yayınlarımızı standımızdan
indirimli fiyatlarla temin edebilirsiniz.

02-10 KASIM 2024
TÜYAP / İSTANBUL

LGS

5'Lİ DENEME SINAV SETİ

ÇIKTI



Basımın Anahtarı

ÖZDEBİR YAYINLARI

- * Sınav hazırlık
- * Yeni nesil sorular
- * Akıllı tahta uyumlu
- * Video çözümlü

DİKKAT: Bu bölümde cevaplayacağınız toplam soru sayısı 20'dir.
Verilen cevap kâğıdının "TÜRKÇE TESTİ" için ayrılan kısımlarını işaretleyiniz.

1. Aşağıdaki metinlerin hangisinde yay ayraç içinde verilen deyimle ilişkilendirilebilir bir durum vardır?

- A) Babam işten eve döndüğünde onu neşeye karşıladık. Hepimizi kucağına alır, ayrı ayrı severdi. Sonra koltuğuna oturur yemeği beklerdik. O neredeyse hiç konuşmazdı. Yüzünden tebessüm eksik olmasa da ağzını pek açmazdı. Sorular sorduğumuzda onaylayan ya da reddeden sesler çıkarır ya da başını oynatarak cevap verirdi. (ağzından bal akmak)
- B) Çocukluğum çok kolay geçmedi. Babam bir fabrikada işçi olarak çalışıp beş çocuklu bir aileye bakmak zorundaydı. O yüzden peynir bulsak zeytin olmazdı, pantolon bulsak gömlek olmazdı. Annem ay sonunu getirebilmek için olağanüstü bir çaba harcardı. (kıt kanaat geçinmek)
- C) Yağmurlu gecelerde özellikle şimşek çaktığında ve gök gürlendiğinde çok korkardım. Aynı odada kaldığımız ağabeyim bundan hiç etkilenmezdi ama ben korktuğum için sürekli ona bir şeyler sorar dikkatimi dağıtmaya çalışırdım. O da korktuğumu bildiği için yarı uykulu da olsa bir şeyler söylemeye çalışırdı. (ensesinde boza pişirmek)
- D) Annem maharetli bir kadındı. Elinden her iş gelirdi: dikiş diker, oya yapar, dantel örer... Mahallede evlenecek kızlar annemin başından ayrılmaz, neredeyse bütün çeyizlerini anneme yaptırırlardı. O da bundan memnundu elbette. En azından çocuklarının okul masraflarını çıkarırdı. (gününü gün etmek)

2. • Geceleri kahve bana dokunuyor, içince sabaha kadar uyuyamıyorum.
- Konuşmanızda çevre kirliliği sorununa dokunmanız çok iyi oldu, bu konu çok önemli.
- Anlattıkları bana öyle dokundu ki uzun süre anlattıklarının etkisinden kurtulamadım.
- Ocaktaki tencereye dokununca parmaklarının uçları yanmış, su toplamış.

"Dokunmak" sözcüğü bu cümlelerde aşağıdaki anlamlarından hangisiyle kullanılmamıştır?

- A) El sürmek, değmek, temas etmek
- B) Sağlığını bozmak, sağlık açısından iyi gelmemek
- C) Sözünü etmek, değinmek
- D) Zarar vermek, olumsuz etkilemek

3. Ağır (tehlikeli, vahim) bir kaza geçirmiş kanamalı bir yaralının yarası çok büyük olduğunda veya kanın pıhtılaşmasını engelleyen (önleyen) ya da oluşan pıhtıyı kısa

I

sürede eriten (etkisizleştiren) bir ilaç kullanan bir hastayı ameliyat ederken kanamayı sona erdirmek (durdurmak) en öncelikli konu hâline gelir.

II

III

IV

mak) en öncelikli konu hâline gelir.

Bu metinde numaralanmış sözcüklerden hangisinin anlamı yay ayraç içinde verilenle uyuşmamaktadır?

- A) I B) II C) III D) IV

4. (I) Türk Dil Kurumu sözlüğünde kuru meyvenin şekerli suyla kaynatılması ile yapılan bir tür tatlı diye geçer hoşaf. (II) Bazı yerlerde tas veya sahanlarla içilen, kafaya bir dikişte içilip geriye kalan posasının yenildiği bu tatlı içecek/yiyecektir. (III) Günümüzde genellikle ramazan sofralarında cam ve porselen kaselerde sunulur sevenlere. (IV) Sonradan İtalyanca "komposto" kelimesi ile şanına sükse yapan "hoşaf" tadından bir şey kaybetmemiştir.

Hoşaftan söz edilen bu metindeki numaralanmış cümlelerle ilgili aşağıdakilerden hangisi yanlıştır?

- A) I. cümlede sözlükteki anlamı verilmiştir.
B) II. cümlede nasıl tüketildiği açıklanmıştır.
C) III. cümlede günümüzde ne zaman ve nasıl sunulduğundan söz edilmiştir.
D) IV. cümlede İtalyanlar tarafından da beğenilerek tüketildiğine değinilmiştir.

5. **Aşağıdakilerin hangisinde bir düşünce, benzetme yoluyla anlatılmıştır?**

- A) Ağacın köklerinin uygun toprağı araması ve bulması gibi her iyi şiir; anlamı, biçimi gibi yüksek müziğini de buluyor.
B) Yazdıklarımı sık sık okuyorum; kötü yahut eksik olduğunu düşündüğüm kısımların üzerinden nazikçe yeniden geçiyorum, ekliyorum, çıkarıyorum.
C) Her bulduğum şiir kitabını okudum, çok okudum; ondan vazgeçmek artık benim için hayal bile edilemeyecek bir şeydi.
D) Birçok şiir kitabı yayımladım ama hâlâ şiir yazıyorum ve bunun edebiyatın en yüksek biçimi olduğunu düşünüyorum.

6. **Gazeteci:**

(I) ----

Yazar:

Böyle bir düşünce içimde hep yıllar yılı oldu. Kendimi on dört yaşında, bir odada otururken arkadaşımın şiir yazmasına şahitlik ederken buldum. İlk itki, ilk başlangıç çingisi, ilk ateş bu. Etrafa baktığımı ve orada oturduğuma göre benim de şiir yazmam, şair olmam gerektiğini düşündüğümü hatırlıyorum. Evet, ilk o zaman kendimi bir şair olarak düşünmeye başladım ve bu benim için çok önemli bir düşünceydi.

Gazeteci:

(II) ----

Yazar:

1987 yılının başlarındaydı, şiirimi bir dergiye gönderdim. Orada yayımlandı. Dörtlükler biçiminde bir şiirdi. Başka bir şiir isteği de geldi, yine verdim, o da yayımlandı. Derken dergilerin kapısı böylece açılmış oldu. Sonra farklı dergilere göndermeye başladım, bir şiirim hariç, onlar da yayımlandı.

Bu röportajda numaralanmış yerlere aşağıdakilerden hangisi getirilmelidir?

- A) (I) Sizi etkileyen ilk şiir hangisiydi?
(II) Şiirlerinizi yayımlamaya ne zaman karar verdiniz?
B) (I) İlk ne zaman şair olmayı istediniz?
(II) Şiirleriniz ilk ne zaman ve nerede yayımlandı?
C) (I) Şairlik yetenek midir yoksa öğrenilebilir mi?
(II) Şiirleriniz yayımlanmasaydı şiiri bırakır mıydınız?
D) (I) İçinizdeki şiir yazma duygusu nasıl doğdu?
(II) İlk şiir kitabınız yayımlandığında ne hissettiniz?

7.

I

Düğün dediğin karşı komşuda olmalı. Böyle, şehirler arası yolcu otobüsüne binip düğüne mi gidilir? Üç buçuk saat yolculuk. O da otobüs mola vermezse... Yol açık olursa... Bu gidişle düğüne yetişemeyeceğiz zaten. Kına yakılmış, gelin adayı ağılatılmış, paralar gelinin başından çoktan saçılmış olursa vay hâlimize... Yola çıktığımızı, yollarda yaşadığımız bu sefilliğe değecek mi o zaman? İşte bundan, bundan sevmem uzak düğünleri. Gerçi sevsen ne, sevmesen ne, yoldayız işte...

(ŞİKAYETÇİ)

II

Perdenin arasından sızan güneş ışığı gözlerimde parlayınca uyandım. Oh, ne güzel hava! Hep böyle midir buranın havası? Hemen kalkıp perdeyi açtım, aralık duran kapıyı ardına kadar açıp balkona çıktım. Göz alabildiğine mavilik! Karşıda Mudanya'nın köyleri belli belirsiz. Serin havayı içime çektim, sonra bir nefes daha, bir nefes daha... Hem gözlerim hem ciğerlerim açıldı. Beynimde hiçbir şey yok. Sanki bütün düşünceler bir yerlere saklanmış. Sadece huzur, varsa yoksa huzur. Hiç bitmese bu güzellik...

(KEYİFLİ)

III

Kimse bir şey söylemiyor ama hâl ve tavırlarından anlıyorum, gurur duyuyorlar benimle. Kolay değil tabii, yıllardır emek veriyorlar, kendimi gerçekleştirmem için çaba harcıyorlar. Bunun karşılığını görmesinler mi? Babamla göz göze geliyorum, mutluluk akıyor bakışlarından. Gözleri dolu dolu ama bana sezdirmek istemiyor. Annem daha belli ediyor duygularını. Anlarım ben, gözlerinden anlarım hepsini.

(ALINGAN)

IV

Aaa, bu ne böyle! Yürüyerek gitsem daha hızlı giderdim valla! Off, yetişebilecek miyim? Neden daha erken yola çıkmadım ki... Nerden bilecektim yolda inşaat olduğunu?... Tamam, sağda dur. Hadi valizlerimi indiriver! Paramı nereye koydum? Arayınca bulunmaz ki zaten. Elim ayağım karıştı birbirine. Hah, işte burda! Al kardeşim al, üstü kalsın.

(TELAŞLI)

Numaralanmış metinlerden hangisinde yazarın içinde bulunduğu duygu yay araç içinde verilenle uyuşmamaktadır?

A) I

B) II

C) III

D) IV

8.



Bu görselle ilgili aşağıdakilerden hangisi kesin olarak söylenir?

- A) Bir çocuk bisiklet yolunda iki tekerlekli bir bisiklet sürmektedir.
- B) Anne babası çocuklarının bisiklet sürmesinden mutluluk duymaktadır.
- C) Açık ve az bulutlu bir bahar gününde bir aile dışarıda eğlenmektedir.
- D) Baba, çocuğuna bisiklet sürmeyi öğretmiş olmanın mutluluğunu yaşamaktadır.

9.

Noktanın (.) kullanıldığı yerler:

- I. Anlamca tamamlanmış cümlelerin sonuna konur.
- II. Sayılarla belirtilen gün, ay ve yılları ayırmak için kullanılır.
- III. Kimi kısaltmalarda kısaltılan sözcükten sonra konur.
- IV. Sıra belirten sayıları göstermekte kullanılır.

Şehirdeki çocuklar çevre eğitimine daha kolay ulaşabilirken köydeki çocukların çevre eğitimine ulaşmasının önündeki engelleri kaldırmak adına bu yılki 4. projemizi köy okullarına taşıdık. 23.07.2020 tarihinde başlayacak eğitim faaliyetimize MEB'in bize sunduğu olanaklardan da yararlanarak en yakın köyden başlayacağız. Eğitimler sonunda hazırladığımız raporları daha sonra ilgili kurumlarla paylaşacağız.

Bu parçada, noktanın (.) kullanıldığı yerlerle ilgili verilen numaralanmış kurallardan hangisinin örneği yoktur?

A) I

B) II

C) III

D) IV

10. 1960'lara kadar liselerde öğreniliyordu en güzel şiiirler. Ezber yetenekleri olanlar ezberliyorlardı da bu şiiirleri. Bazı gençler beğendikleri şiiirleri özel olarak tuttıkları defterlere yazıyorlardı. Bazen de Namık Kemal'in bir dizesi bir avukat bürosunun duvarında levha oluyordu. Bugün şiiir hayatımızdan neredeyse tamamen çıktı. Ne öğretmenlerimiz öğrencilerine şiiir okuyor ne de bir şairin şiiiri hayatımıza karışıyor. Ne dersiniz, doğru düzgün cümle kurma becerisine bile katlanamayan neslimizden şiiir gibi ince işçilik ürününe ilgi beklemek biraz lüks mü kaçıyor?

Bu metinde yazar aşağıdakilerin hangisinden yakınmaktadır?

- A) Yeni neslin genel olarak sanata yeterince ilgi göstermemesinden
- B) Sanatçılara toplumun eskisi kadar değer vermemesinden
- C) Şiiire toplum olarak eskisi kadar ilgi duyulmamasından
- D) Topluma yol gösterecek güçlü şairler yetişmemesinden

11. Dilde varlığını sürdüren ve uygun bir karşılığı bulunamayan her kelime, kullanıcı açısından birtakım sorunlar taşır ve böyle bir kelimeyi Türkçe Sözlük'e bakarak oradan yazımı ve anlamı hakkında bilgi edinilir. Dilde seçici olanlar, kelimeleri bilerek yerinde kullanmaya çalışanlar, kaynak kullananlardır. Ancak bu tutumda olanların sayısı giderek azaldı.

Bu metindeki altı çizili ifadeyle aşağıdakilerden hangisine göndermede bulunulmuştur?

- A) Kelimeleri yerinde kullanabilmek için kaynak kullananlara
- B) Dilde varlığını sürdüren yabancı kökenli kelimeleri yanlış kullananlara
- C) Kelimelerin doğru yazımını öğrenmek için gayret içinde olmayanlara
- D) Yazımı ve anlamı sorunlu olan sözcükleri kullanmayı sürdürenlere

12. Hubble Uzay Teleskobu Dünya'nın yörüngesine yerleştirilen ilk teleskop. 1990 yılında fırlatılan teleskop sayesinde gök cisimlerinin ilk kez çok net fotoğrafları çekildi. Teleskoba bugüne kadar beş kez bakım yapıldı ve bu bakımlar sırasında görüntüleme aygıtları daha gelişmişleriyle değiştirildi. Hubble Uzay Teleskobu'yla çekilen ve 5 Ocak'ta yayımlanan bir fotoğrafta Kartal Bulutsusu olarak adlandırılan bulutsu görülüyor. Hubble bu bulutsunun fotoğrafını 1995 yılında da çekmişti. Bu, içinde yıldızlar oluşmakta olan bir bulutsunun o zamana kadar çekilmiş en ayrıntılı fotoğrafıydı ve gök bilimciler bu fotoğraftan çok etkilenmişlerdi.

Bu metinden "Hubble Teleskobu" ile ilgili aşağıdakilerden hangisi çıkarılamaz?

- A) Dünya'nın yörüngesine yerleştirilen ilk teleskop olduğu
- B) Görüntüleme aygıtlarının daha gelişmişleriyle değiştirildiği
- C) Kartal Bulutsusu'nun en ayrıntılı fotoğraflarını gök bilimcilere sunduğu
- D) Yıldızların hangi süreçler sonunda oluştuğunu görüntülediği

13. Bilim insanları, Çin'in kuzey batısındaki fosil bölgesin-

I
den 1987 yılında çıkarılmış otçul bir dinazor fosilini tek-

II
rar inceledi. Eksik olan fosil, yalnızca üç boyun omuru, bir kaburga ve birkaç kafatası kemiğinden oluşuyor.

III
Uzun boyunlarıyla bilinen diğer sauropodlarla karşılaştırma yapılarak dinazorun boyun uzunluğunun 15,1 metre olduğu tahmin edildi. Bu, bilinen dinozorlar içindeki en

IV
büyük boyun uzunluğu.

Bu parçadaki altı çizili sözlerin hangisinde yazım yanlışı vardır?

- A) I
- B) II
- C) III
- D) IV

14. Aşağıda "9 TAŞ" oyununun özellikleri ve nasıl oynandığı verilmiştir.

Oyuncu Sayısı: 2

Amaç: 3 taşı yan yana getirerek rakip taşı oyundan çıkarmak, oyun sonunda tahtada en fazla taşı bırakmak.

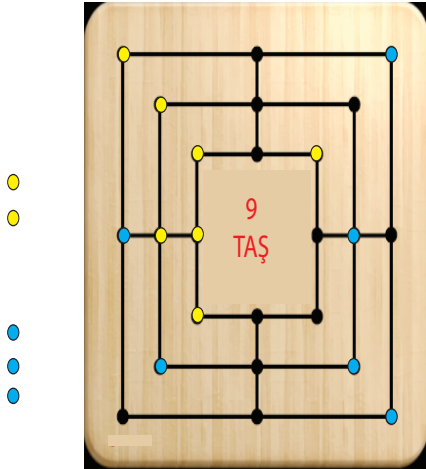
Oyun Taşları: Her oyuncunun 9 taşı bulunur.

Oyunun Kuralları

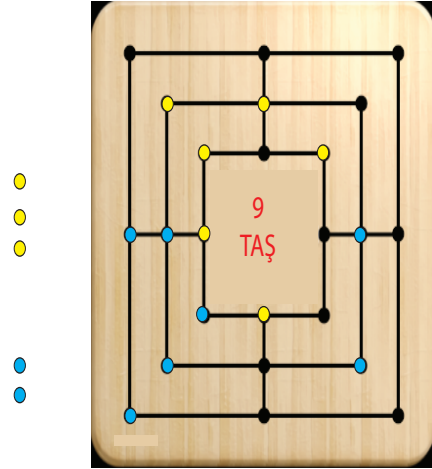
- Oyuna ilk başlayanı belirlemek için kura atışı yapılır.
- Kurayı kazanan oyuncu tahtaya ilk taşı koyarak oyuna başlar. Sonra rakip oyuncu tahtaya bir taş koyar. Her iki oyuncu da elindeki 9 taş bitinceye kadar sırasıyla taşları oyun tahtası üzerine koyarlar. Bu esnada oyunculardan herhangi biri yatay ya da dikey olarak taşlarını üçtaş yapmışsa rakibinin bir taşını tahtadan alır ve oyun dışı bırakır.
- Rakibin 3 taşı varsa üçlü bozulmaz. Üçlü olmayanlardan birisi alınır ancak 3 taş yapılmış olanlardan başka taş yoksa üçlüyü bozarak bir taş alır.
- Çapraz 3 taş yapılamaz.

Buna göre, aşağıdaki oyunların hangisinde bir oyuncu rakip oyuncunun taşlarından birini alma hakkı kazanmıştır?

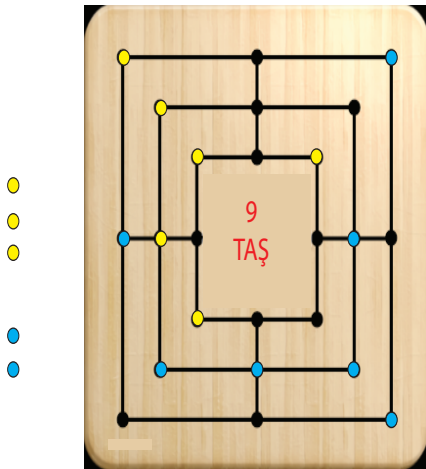
A)



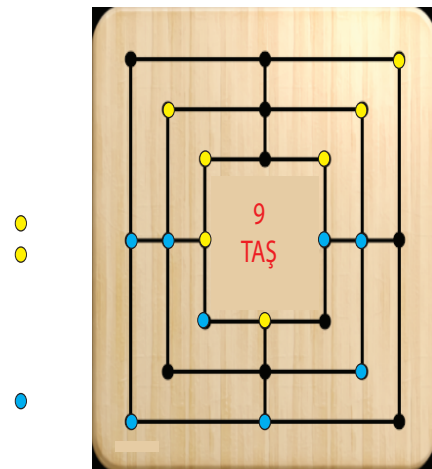
B)



C)



D)



15. I. Martin Cooper, "Uzay Yolu" adlı diziyi izliyordu.
 II. Martin Cooper, dizideki karakterlerin farklı gezegenlerde olmalarına karşın konuşabilmelerini sağlayan telsiz benzeri aygıtlardan etkilendi.
 III. Martin Cooper, kablosuz bir telefon üzerinde çalışmaya başladı.

Numaralanmış cümlelerin anlamca doğru bir biçimde birleştirilmiş hâli aşağıdakilerden hangisidir?

A)

"Uzay Yolu" adlı dizide oynayan Martin Cooper, dizideki karakterlerin farklı gezegenlerde olmalarına karşın konuşabilmelerini sağlayan telsiz benzeri aygıtlardan etkileneip kablosuz bir telefon üzerinde çalışmaya başladı.

B)

Dizideki karakterlerin farklı gezegenlerde olmalarına karşın konuşabilmelerini sağlayan telsiz benzeri aygıtlardan etkilenen Martin Cooper, "Uzay Yolu" adlı dizide kullanmak için kablosuz bir telefon üzerinde çalışmaya başladı.

C)

"Uzay Yolu" adlı diziyi izlerken dizideki karakterlerin farklı gezegenlerde olmalarına karşın konuşabilmelerini sağlayan telsiz benzeri aygıtlardan etkilenen Martin Cooper, kablosuz bir telefon üzerinde çalışmaya başladı.

D)

Kablosuz bir telefon üzerinde çalışmaya başlayan Martin Cooper, "Uzay Yolu" adlı diziyi izlerken dizideki karakterlerin farklı gezegenlerde olmalarına karşın konuşabilmelerinden etkilendi.

16.

ABD'de yapılan bir araştırmada 3 yıl boyunca 500 öğrencinin akıllı saat benzeri aygıtlar aracılığıyla uyku düzenleri ve gün ışığında geçirdikleri süre kaydedildi. Sonuç olarak öğrencilerin kış mevsimlerinde geceleri ortalama 35 dakika daha geç uyuduğu ve sabahları ortalama 27 dakika daha geç uyanıldığı bulundu. Bunun nedeniyse kış mevsiminde gündüz süresinin kısalması ve dışarıda daha az zaman geçirilmesi.

Araştırmacılar, uyku düzenini de kontrol eden biyolojik saatimizin gün ışığında geçirdiğimiz süreden etkilendiğini belirtiyor. Örneğin, gündüzleri gün ışığında geçirilen süre biyolojik saatimizin normal akışında ilerlemesini sağlarken akşamları yapay ışıkta geçirilen süre biyolojik saatimizin akışını bozuyor.

Bu metinde sözü edilen araştırma aşağıdakilerden hangisini ortaya çıkarmak için yapılmıştır?

- A) Gün ışığının uyku düzenine etkisini
 B) Teknolojik aletlerin insanlar üzerindeki olumsuz etkisini
 C) Biyolojik saatin bozulmasının ne tür sorunlara neden olduğunu
 D) Uyku süresinin yaşlara bağlı olarak değişebileceğini

17. Aşağıda fiilimsilerle ilgili bilgiler sıralanmış ve bu bilgilerle ilgili örnekler A, B, C cümlelerinde karışık olarak verilmiştir.

Bilgi

Fiillere sıfat-fiil eklerinin getirilmesiyle türetilen fiilimsiler cümlede genellikle sıfat görevinde kullanılır.

Örnek: (I)

Bilgi

İsim-fiil ekleriyle türetilen bazı sözcükler fiil anlamını tamamen kaybedip bir varlığın ismi olabilir.

Örnek: (II)

Bilgi

Fiillere zarf-fiil eklerinin getirilmesiyle türetilen fiilimsiler eylemin zamanını bildirebilir.

Örnek: (III)

- A. Bugünkü matematik ödevlerinizi bitirince maçı izleyebilirsiniz.
B. Köşkün geniş kapısına açılan koridoru takip ederseniz evin sahibini görebilirsiniz.
C. Dondurma satıcısı tavana bağlı çana vuruyor, müşterilerin dikkatini çekiyordu.

Buna göre aşağıdakilerden hangisinde, numaralanmış yerlere gelmesi gereken A, B, C'deki örnekler doğru verilmiştir?

	I	II	III
A)	B	A	C
B)	A	B	C
C)	B	C	A
D)	C	B	A

18. Araştırmacılar hiçbir şeyle uğraşmadan geçirilen kısa molaların yeni anılar oluşturulmasına katkıda bulunduğuna ilişkin bulgular elde etti. 2012'de yaptıkları çalışmada kısa bir dinlenmenin katılımcıların birkaç dakika önce söylenen bir şeyi daha iyi hatırlamalarına yardımcı olduğunu göstermişti. Bir hikâyeyi dinledikten sonra 10 dakika dinlenen katılımcılar hikâyeyi, bu süreyi bir fark bulma oyunu oynayarak geçiren katılımcılardan %10 daha iyi hatırlamıştı. Araştırmacılar şimdi de dinlenmenin mekânsal hafızanın pekiştirilmesine de faydası olduğunu gösteren bir çalışma yaptı. Bu, uykusuzluk çeken insanların hafıza pekiştirme işlevini uyanıkken kısmen de olsa telafi edebileceği anlamına geliyor

Bu metinde sözü edilen araştırmadan çıkarılabilecek sonuç aşağıdakilerden hangisidir?

- A) Yaş ilerledikçe yeni öğrenilen şeyler daha hızlı unutulmaktadır.
B) Dikkat dağınık etkinler hafızanın unutma sürecini hızlandırmaktadır.
C) Uykusuzluk çeken insanlar yeni şeyler öğrenmekte zorlanmaktadır.
D) Bir şeyle uğraşmadan dinlenmenin hafıza üzerinde olumlu etkileri vardır.

19.

Sabah vakti bir kelebek
Dolaşiyor çiçek çiçek
Hem gururlu hem neşeli
Kanat çırpıp titreyerek


Kuşlar öterken dallarda
Kuzular gezer kırlarda
Kelebekler şarkı söyler
Çiçek dolu tarlalarda

Bu şiirde kişileştirilen varlığın görseli aşağıdakilerden hangisidir?

A)



B)



C)



D)



20. Olimpiyatlarda Voleybol Milli Takım'ımızın maç yaptığı ülkeler 1. tabloda verilmiştir. 2. tabloda ise kimin hangi maçı izlediği gösterilmiştir.

1. TABLO		
TAKIMLAR	Cumartesi	Pazar
ÇİN	✓	
DOMİNİK CUMHURİYETİ		✓
İTALYA	✓	
SIRBİSTAN	✓	
HOLLANDA		✓

2. TABLO	
KİŞİLER	TAKIMLAR
EMRE	İTALYA
BERRİN	DOMİNİK CUMHURİYETİ
SİNEM	HOLLANDA
YEKTA	SIRBİSTAN
MEYRA	ÇİN

Bu tablolarla ilgili,

- I. EMRE cumartesi günü maç izlemiştir.
- II. SİNEM ve BERRİN aynı gün maç izlemiştir.
- III. MEYRA ve YEKTA farklı günlerde maç izlemiştir.

açıklamalarından hangisi kesinlikle yanlıştır?

A) Yalnız II

B) Yalnız III

C) I ve III

D) II ve III

TÜRKÇE TESTİ BİTTİ.
CEVAPLARINIZI KONTROL EDİNİZ.

DİKKAT: Bu bölümde cevaplayacağınız toplam soru sayısı 10'dur. Verilen cevap kâğıdının "T.C. İNKILAP TARİHİ VE ATATÜRKÇÜLÜK TESTİ" için ayrılan kısımlarını işaretleyiniz.

1.



"Selânik, başta milliyetçilik olmak üzere Batı'dan gelen düşünce akımlarına açık konumuyla birçok fikrin, birçok siyasi olayın oluştuğu bir liman şehridir. Ordu merkezidir. Her konuda geniş bir etki alanı vardır. Nüfusunun büyük çoğunluğu Türk'tür. Müslümanların, Rumların ve Yahudilerin mahalleleri ayrılmıştır. Kent, 1889'da Sırbistan ve Viyana üzerinden demir yoluyla Avrupa'ya bağlanmıştır. Diğer bir demir yolu hattı da kenti, Bulgaristan üzerinden Avrupa'ya ve İstanbul'a bağlamıştır. Kentin elektrik ağı 1889'da kurulmuştur. Bu süreçte dokuma fabrikalarında pamuklu ve yünlü kumaş üretilmiş, yabancıların kontrolündeki Düyûn-ı Umûmiye İdaresinin bir bölümü olan ve reji olarak bilinen devlet tekelinin himayesinde önemli ölçüde tütün ihraç edilmiştir."

Bu bilgilere göre Selânik ile ilgili,

- I. Ekonomik alanda gelişmiştir.
- II. Çok kültürlü bir toplum yapısına sahiptir.
- III. Millî birlik ve beraberliğin güçlü olduğu bir şehirdir.
- IV. Batı kültürü ile etkileşim hâindedir.

yargılarından hangilerine ulaşılabilir?

A) I ve II

B) II ve III

C) I, II ve IV

D) II, III ve IV

2.

1886	Selânik'te modern yöntemlerle eğitim yapan Şemsi Efendi Mektebine başladı.
1893	Önce Selânik'teki Mülkiye Rüştiyesine daha sonra da Askerî Rüştiyeye başladı. Matematik Öğretmeni Yüzbaşı Mustafa Bey bir gün ona "Senin de adın Mustafa, benim de. Arada bir fark olmalı. Senin adının sonuna bir de Kemal koyalım." diyerek ona "olgun" anlamına gelen Kemal ismini armağan etti.
1896	Manastır Askerî İdadisine başladı. Rousseau, Voltaire ve Montesquieu gibi Aydınlanma Çağı Fransız düşünürlerin eserleriyle tanıştı. Bu sayede demokrasi, millî egemenlik, özgürlük, eşitlik, hukukun üstünlüğü gibi kavramları öğrenme fırsatı buldu. Tarih Öğretmeni Kolağası Mehmet Tevfik (Bilge) Bey, Mustafa Kemal'in tarihe olan ilgisinin artmasında ve millî benliğinin oluşmasında etkili oldu.
1899	İstanbul'daki Harp Okuluna başladı. "Bir kurmay subay kesinlikle yabancı dil bilmelidir, bunun aksini düşünmek büyük hatadır." diyerek Fransızca öğrenmeye daha çok zaman ayırdı. Fransa'dan getirttiği kitap, gazete ve dergileri okuyarak dünyayı tanıma imkânına kavuştu. Arkadaşlarıyla birlikte el yazısı bir gazete çıkardı.

Tablodaki bilgiler değerlendirildiğinde Mustafa Kemal ile ilgili aşağıdakilerden hangisine ulaşamaz?

- A) Fikirlerinin oluşmasında aldığı eğitimin etkisi vardır.
- B) Öğrenim hayatında etkilendiği öğretmenler olmuştur.
- C) Dünyayı tanımaya ve fikirlerini yaymaya önem vermiştir.
- D) Ordunun yapısında köklü değişiklik yapılması fikrini benimsemiştir.

3. Fransız İhtilali sonucunda 1789'da yayımlanan "Fransız İnsan ve Vatandaş Hakları Bildirisi", insanların hakları açısından hür ve eşit doğduğunu ve bu şekilde yaşamaları gerektiğini vurgulamıştır. Bidiride; hürriyet, mülkiyet ve güvenlik gibi hakların yanı sıra egemenliğin tamamen millete ait olduğu ifade edilmiştir. Fransız İhtilali, her milletin kendi bağımsız devletini kurma hakkını öne çıkararak milliyetçilik akımının yayılmasına, azınlık isyanlarına ve imparatorlukların çözülmesine yol açmıştır.

Buna göre, 19 ve 20. yüzyıllarda yaşanan aşağıdaki gelişmelerden hangisi, Fransız İhtilali'nin Osmanlı Devleti'nde etkili olduğunun kanıtı olarak gösterilemez?

- A) Kanun gücünün, her gücün üstünde kabul edildiği Tanzimat Fermanı'nın ilan edilmesi
- B) İlk Türk anayasası olan Kanun-ı Esasi'nin ilan edilmesiyle I. Meşrutiyet Dönemi'nin başlaması
- C) Yunan, Sırp, Romen ve Bulgarların ulusçu isyanlar sonucunda Osmanlı Devleti'nden ayrılması
- D) Düyûn-ı Umûmiye (Genel Borçlar) İdaresinin kurulması
4. Mustafa Kemal; Montesquieu'nün "Kanunların Ruhu" adlı eserinin yanında Rousseau'nun hak ve özgürlükleri savunduğu "Sosyal Mukavele" ve kötü kanunları tartıştığı "Emil" adlı eserlerini okumuştur. Okuduğu eserlerdeki fikirlerden faydalanıp, bunları sentezleyerek kendi düşüncelerini oluşturmuştur.

Aşağıdakilerden hangisinin Mustafa Kemal'in bu düşüncelerinin doğal bir sonucu olduğu söylenebilir?

- A) Trablusgarp Savaşı'na gönüllü olarak katılmasının
- B) Şam'dayken kurduğu cemiyete, "Vatan ve Hürriyet Cemiyeti" adını vermesinin
- C) Fransa'da düzenlenen Picardie (Pikardi) tatbikatını yerinde izlemesinin
- D) Sofya'da davet edildiği bir baloya yeniçeri kıyafetleriyle gitmesinin

T.C. İNKILAP TARİHİ VE ATATÜRKÇÜLÜK

5. Mustafa Kemal, Balkan Savaşlarının sona ermesiyle Bulgaristan'ın başkenti Sofya'ya askerî ataşe olarak atanmıştır. Bu görevi sırasında, azınlık durumundaki Türklerin kültürel hayatlarının geliştirilmesi için girişimlerde bulunmuştur. Bulgaristan'da Türkçe olarak yayımlanan gazetelerle irtibat kurarak bölgedeki Türklerin sosyal ve siyasi haklarının yükseltilmesi çalışmalarına katılmıştır.

Bu faaliyetlerinden hareketle Mustafa Kemal ile ilgili aşağıdakilerden hangisi söylenebilir?

- A) Millî bilince sahip olduğu
- B) Osmanlılık fikrini benimsediği
- C) Bulgar ordusunun modernleştirilmesinde görev aldığı
- D) Azınlıkların bağımsızlık hareketlerini desteklediği
6. Mustafa Kemal bir konuşmasında; "Şair Mehmet Emin Yurdakul'un ilk defa Manastır Askerî İdadisinde öğrenci iken okuduğum 'Ben bir Türk'üm, dinim, cinsim uludur.' mısrasıyla başlayan manzumesinde, bana ulusal benliğimin gururunu tattıran ilk anlatımı bulmuştum." demiştir.

Bu ifadesine bakarak Mustafa Kemal'in;

- I. milliyetçilik,
II. millî egemenlik,
III. Türkçülük

fikirlerinin hangilerinin oluşumunda Mehmet Emin Yurdakul'un etkisinden söz edilebilir?

- A) Yalnız I
- B) I ve II
- C) I ve III
- D) II ve III
7. Sanayi İnkılabı sonucunda ekonomik ve askerî güçlerini artıran devletler sanayileşmemiş ülkeleri, ham madde kaynağı ve imal ettiklerini satabilecekleri açık pazarlar olarak görmeye başlamışlardır. Bu ülkelere ait toprakları işgal ederek sömürgeleştirmişlerdir.

Bu bilgiden hareketle Sanayi İnkılabı'nın aşağıdakilerden hangisine yol açtığı söylenebilir?

- A) Emperyalist politikaların yaygınlaşmasına
- B) Aydınlanma Çağı'nın başlamasına
- C) Islahat Fermanı'nın yayımlanmasına
- D) Rönesans ve Reform hareketlerinin izlerinin silinmesine

